

Nome do candidato:

Cargo: **Recepcionista**

Instruções:

- ✓ Este caderno somente deverá ser aberto quando autorizado pelos fiscais.
- ✓ Escreva seu nome no campo "**Nome do candidato**".
- ✓ Ao ser autorizado o início da prova, verifique se o caderno corresponde ao cargo para o qual está concorrendo e se tem o número de questões indicado nesta capa.
- ✓ Você terá **3h30min** para concluir a prova, incluindo o tempo de preenchimento do cartão de respostas.
- ✓ Ao receber o **cartão de respostas**, preencha-o com as informações necessárias e **assine-o**.
- ✓ O cartão de respostas **não será substituído**. Portanto, tenha cuidado para não o rasurar.
- ✓ Preencha o cartão de respostas com caneta esferográfica **azul**.
- ✓ Será atribuído valor zero às questões que, no cartão de respostas, não tenham sido transcritas, contenham mais de uma marcação ou, ainda, estejam rasuradas.
- ✓ **Ao terminar a prova**, devolva ao fiscal de sala este caderno, juntamente com o cartão de respostas, e **assine a ata de presença**.
- ✓ Os dois últimos candidatos somente poderão deixar a sala de provas juntos, após terem assinado a ata de encerramento.

Composição da prova:

Língua Portuguesa: Questões **1** a **20**

Raciocínio Lógico Matemático: Questões **21** a **40**

Conhecimentos gerais: **41** a **60**

Língua Portuguesa

As **questões 1 a 10** devem ser respondidas com base no Texto 1.

Texto 1

OBESIDADE INFANTIL DISPARA NA GERAÇÃO TIKTOK

Taxa de crianças obesas ou acima do peso cresce 70% no Brasil e convive com a fome persistente entre a população mais vulnerável do país, revela levantamento inédito.

Na porta de um pequeno mercado localizado entre dois terrenos baldios, em uma rua poeirenta do interior do Maranhão, pacotes de salgadinho brilham sob o implacável sol das 10 horas da manhã. A temperatura passa dos 30°C em Trizidela do Vale, região central do estado, quando um menino de 11 anos, descalço e vestindo apenas uma bermuda azul, entra na loja para comprar um adoçante a pedido da mãe. Antes de pagar, agarra um dos pacotes brilhantes: um salgadinho de milho sabor calabresa acebolada – que de calabresa só tem o aroma artificial –, vendido a 50 centavos. Uma banana custa 75 centavos, mas o garoto nem chega perto das frutas guardadas no refrigerador no corredor mais distante da porta. As prateleiras de destaque destinam-se aos salgadinhos de pacote. “É para chamar as crianças”, explica o atendente. O salgadinho de pacote é ingrediente central do cardápio de má nutrição das crianças brasileiras. Mas não é o único vilão. A fome persistente convive com a crescente epidemia de obesidade, e os dois fenômenos atingem a população mais vulnerável. Dados compilados pela Piauí e pela agência de dados públicos Fiquem Sabendo, com base no Sistema de Vigilância Alimentar e Nutricional (Sisvan), do Ministério da Saúde, mostram que a proporção de crianças de 5 a 10 anos acima do peso explodiu nos últimos treze anos. A taxa de crianças com obesidade subiu 70% de 2008 a 2021. Praticamente uma em cada cinco crianças atendidas pelo sistema público de saúde está obesa. [...].

Em metade dos domicílios pesquisados pelo Unicef, as crianças com menos de 6 anos consomem salgadinho de pacote, macarrão instantâneo e refrigerante de uma a três vezes por semana. O estudo concluiu que a vulnerabilidade socioeconômica das famílias é um fator que influencia no consumo de ultraprocessados, e a maior dificuldade para melhorar os hábitos alimentares foi o alto custo dos alimentos saudáveis. “O preço de uma salsicha pouco aumentou, enquanto o da cenoura disparou. As pessoas mais pobres estão comendo comida de baixa qualidade porque é mais barato”, diz o economista Arnaldo de Campos, ex-secretário nacional de Segurança Alimentar e Nutricional. Um levantamento feito por ele mostra que, das 20 maiores altas de preços acumuladas este ano até o mês de abril, 19 foram de alimentos *in natura*.

Fonte: adaptado de LICHOTTI, Camille; VALENTE, Rubens. Obesidade infantil dispara na geração TikTok. *Revista Piauí*, 07 jul. 2022. Disponível em: <https://piaui.folha.uol.com.br/fome-na-geracao-tiktok/>. Acesso em: 10 ago. 2023.

Questão 1 – O tema do texto é:

- a) as consequências da obesidade infantil.
- b) a obesidade infantil e o tratamento de saúde.
- c) as causas da obesidade infantil.
- d) a preocupação dos pais em torno do tema obesidade infantil.
- e) medidas de combate à obesidade infantil.

Questão 2 – A principal função do texto é:

- a) emocionar
- b) ensinar
- c) convencer
- d) traduzir
- e) informar

Questão 3 – O texto se organiza a partir da seguinte sequência de ideias:

- a) apresentação do problema – relato de cena cotidiana – reflexão sobre as causas do problema.
- b) relato de cena cotidiana – apresentação do problema – reflexão sobre as causas do problema.
- c) reflexão sobre as causas do problema – apresentação do problema – relato de cena cotidiana.
- d) reflexão sobre as causas do problema – relato de cena cotidiana – apresentação do problema.
- e) relato de cena cotidiana – reflexão sobre as causas do problema – apresentação do problema.

Questão 4 – Observe os recursos de veracidade listados a seguir:

- I. citação de discurso alheio de autoridade
- II. uso de dados estatísticos
- III. menção a estudos realizados
- IV. explicitação de resultados de pesquisa

Dos recursos listados, é possível afirmar que são usados, na proposta argumentativa do texto 1, aqueles apresentados em:

- a) I, II, III e IV.
- b) I e II, apenas.
- c) II e III, apenas.
- d) I, III e IV, apenas.
- e) II e IV, apenas.

Questão 5 – Encontra-se um uso figurado da linguagem em:

- a) O salgadinho de pacote é ingrediente central do cardápio de má nutrição das crianças brasileiras.
- b) Em metade dos domicílios pesquisados pelo Unicef, as crianças com menos de 6 anos consomem salgadinho de pacote, macarrão instantâneo e refrigerante de uma a três vezes por semana.
- c) Obesidade infantil dispara na geração TikTok.
- d) O estudo concluiu que a vulnerabilidade socioeconômica das famílias é um fator que influencia no consumo de ultraprocessados, e a maior dificuldade para melhorar os hábitos alimentares foi o alto custo dos alimentos saudáveis.
- e) A taxa de crianças com obesidade subiu 70% de 2008 a 2021.

Questão 6 – Leia o segmento do texto.

As prateleiras de destaque destinam-se aos salgadinhos de pacote. “É para chamar as crianças”, explica o atendente.

Considere as seguintes afirmativas sobre as relações estabelecidas no segmento do texto:

- I. O discurso direto é um recurso de citação da fala de outrem.
- II. A explicação dada pelo atendente envolve uma ideia de finalidade.
- III. A situação relatada no segmento está diretamente associada à problemática abordada no texto.

Está **correto** o que se afirma em:

- a) I e II, apenas.
- b) II e III, apenas.
- c) I e III, apenas.
- d) I, II e III.
- e) I, apenas.

Questão 7 – No texto, são elementos que estabelecem relação de oposição entre si:

- a) pacotes de salgadinho x adoçante
- b) banana x cenoura
- c) macarrão instantâneo x refrigerante
- d) salsicha x salgadinho de pacote
- e) frutas x salgadinho de pacote

Questão 8 – Sobre as classes gramaticais das palavras do segmento: “Na porta de um pequeno mercado localizado entre dois terrenos baldios, em uma rua poeirenta do interior do Maranhão, pacotes de salgadinho brilham sob o implacável sol das 10 horas da manhã”, é **correto** o que se afirma em:

- a) “Dois” é determinante de “baldios”.
- b) “Das” é uma contração de preposição e artigo indefinido.
- c) “Horas” é um advérbio.
- d) A palavra “mercado” é determinada por artigo e adjetivo.
- e) “Manhã” é um pronome.

Questão 9 – A seguir, são elencadas causas da obesidade infantil apontadas no texto, com **exceção** de:

- a) A vulnerabilidade socioeconômica das famílias.
- b) O alto custo dos alimentos saudáveis.
- c) O atendimento no sistema público de saúde.
- d) O consumo de ultraprocessados.
- e) O preço mais barato das comidas de baixa qualidade.

Questão 10 – A palavra “hábitos” é acentuada com base na mesma regra que:

- a) socioeconômica
- b) três
- c) só
- d) vulnerável
- e) até

As **questões 11 a 20** devem ser respondidas com base no texto 2.

Texto 2

A burocracia/3

Sixto Martínez fez o serviço militar num quartel de Sevilha. No meio do pátio desse quartel havia um banquinho. Junto ao banquinho, um soldado montava guarda. Ninguém sabia por que se montava guarda para o banquinho. A guarda era feita porque sim, noite e dia, todas as noites, todos os dias, e de geração em geração oficiais transmitiam a ordem e os soldados obedeciam. Ninguém nunca questionou, ninguém nunca perguntou. Assim era feito, e sempre tinha sido feito. E assim continuou sendo feito até que alguém, não sei qual general ou coronel, quis conhecer a ordem original. Foi preciso revirar os arquivos a fundo. E depois de muito cavoucar, soube-se. Fazia trinta e um anos, dois meses e quatro dias que um oficial tinha mandado montar guarda junto ao banquinho, que fora recém-pintado, para que ninguém sentasse na tinta fresca.

Fonte: GALEANO, Eduardo. **O livro dos abraços**. Porto Alegre: Editora LPM, 2016.

Questão 11 – Sobre o texto 2, é **correto** afirmar que:

- a) Envolve uma proposta dissertativa sustentada via uso de elementos temáticos abstratos.
- b) Busca a objetividade na construção argumentativa apresentada, como ocorre nos textos acadêmicos.
- c) Não aborda o tema apresentado no título.
- d) Trata-se de um texto com recursos figurativos para explorar o tema apresentado no título.
- e) Assume um gênero que se aproxima do epistolar, ao relatar o ocorrido a um destinatário explícito em sua proposta.

Questão 12 – O desfecho do relato apresentado permite deduzir que:

- a) A crítica prejudica a atenção.
- b) O quartel não cuida dos seus bens.
- c) A precaução relatada era infundada.
- d) Os arquivos foram perdidos.
- e) Sixto Martínez era rebelde.

Questão 13 – Sobre a construção do segmento:

“Ninguém nunca questionou, ninguém nunca perguntou. Assim era feito, e sempre tinha sido feito”, afirma-se que:

- I. A repetição de determinadas expressões e da estrutura sintática funciona como recurso argumentativo para referir a situação dada de modo absoluto.
- II. Usa-se pronome indefinido “ninguém” porque, de fato, não se sabe o nome das personagens questionadoras.
- III. O advérbio “nunca” contribui para a proposta argumentativa central, baseada na ideia absoluta do inquestionável.

Está **correto** o que se afirma em:

- a) I, II e III.
- b) I e II, apenas.
- c) II e III, apenas.
- d) I, apenas.
- e) I e III, apenas.

Questão 14 – Sobre a construção sintática do segmento: “Fazia trinta e um anos, dois meses e quatro dias, que um oficial tinha mandado montar guarda junto ao banquinho, que fora recém-pintado, para que ninguém sentasse na tinta fresca”, é **correto** afirmar que:

- a) O sujeito de “fazer” é “trinta e um anos, dois meses e quatro dias”.
- b) O pronome “que”, em “que fora recém-pintado”, retoma o substantivo “oficial”, estabelecendo com ele uma relação de coesão.
- c) O verbo “fazer” está empregado no singular, por se tratar de construção de uma oração sem sujeito.
- d) O pronome “ninguém” assume função de sujeito composto da oração da qual faz parte.
- e) “Na tinta fresca” exerce função de adjunto adnominal na oração da qual faz parte.

Questão 15 – Os efeitos de sentido no mundo narrado no texto se dão, em grande parte, em oposição decorrente do uso de dois tempos verbais do Modo Indicativo. São eles:

- a) Pretérito Perfeito e Pretérito Imperfeito
- b) Presente e Futuro do Presente
- c) Futuro do Presente e Futuro do Pretérito
- d) Presente e Pretérito Imperfeito
- e) Presente e Pretérito Mais-que-perfeito

Questão 16 – A palavra “banquinho” é formada pelo processo de:

- a) derivação prefixal
- b) derivação sufixal
- c) parassíntese
- d) composição por aglutinação
- e) composição por justaposição

Questão 17 – No segmento: “E assim continuou sendo feito até que alguém, não sei qual general ou coronel, quis conhecer a ordem original”, as vírgulas marcam:

- a) intercalação
- b) enumeração
- c) orações justapostas
- d) inserção de adjunto adverbial
- e) ordem indireta dos elementos da oração

Questão 18 – No período: “[...] um oficial tinha mandado montar guarda junto ao banquinho, que fora recém-pintado, para que ninguém sentasse na tinta fresca”, a oração subordinada adverbial inserida por conjunção estabelece ideia de:

- a) conformidade
- b) finalidade
- c) causa
- d) consequência
- e) tempo

Questão 19 – O determinante usado em “tinta fresca” encontra sua referência na informação de ordem:

- a) espacial
- b) cultural
- c) pessoal
- d) temporal
- e) religiosa

Questão 20 – O uso repetido da conjunção “e” no texto expressa:

- a) simultaneidade dos fatos
- b) oposição das ideias apresentadas
- c) consequência dos fatos
- d) causa dos acontecimentos relatados
- e) continuidade do panorama geral dos fatos

Raciocínio Lógico Matemático

Questão 21 – Leia a seguinte proposição lógica:

Algum ramalhete de flores tem menos de 12 rosas vermelhas.

A negação dessa proposição lógica é indicada **corretamente** na alternativa:

- a) Todo ramalhete de flores tem menos de 12 rosas vermelhas.
- b) Não existe ramalhete de flores com 12 rosas vermelhas.
- c) Nenhum ramalhete de flores tem menos de 12 rosas vermelhas.
- d) Algum ramalhete de flores tem mais de 12 rosas vermelhas.
- e) Nem todo ramalhete de flores tem menos de 12 rosas vermelhas.

Questão 22 – Se todos os meus amigos são destros, e nenhum destro é canhoto, é possível concluir **corretamente** que:

- a) Nenhum destro é meu amigo.
- b) Todos os meus amigos são canhotos.
- c) Todos os canhotos são destros.
- d) Nenhum dos meus amigos é canhoto.
- e) Todos os destros são meus amigos.

Questão 23 – Observe a sentença lógica:

Se choveu ontem, então ficarei doente.

Uma sentença logicamente **equivalente** a essa é:

- a) Se eu ficar doente, então choveu ontem.
- b) Não choveu ontem ou não ficarei doente.
- c) Choveu ontem e ficarei doente.
- d) Não choveu ontem e não ficarei doente.
- e) Se não choveu ontem, então não ficarei doente.

Questão 24 – Ao longo do primeiro trimestre escolar, uma turma teve oito avaliações, não havendo duas avaliações marcadas para a mesma data. Assinale a alternativa **correta**, com relação a essa situação:

- a) Pelo menos uma avaliação ocorreu na quinta-feira.
- b) Pelo menos uma das avaliações teve média abaixo de 5.
- c) Pelo menos, no mês de abril, houve duas avaliações.
- d) Pelo menos duas avaliações foram no mesmo dia da semana.
- e) Pelo menos uma avaliação foi de geometria.

Questão 25 – Ao visitar um apartamento para alugar, o corretor informou que a vaga de garagem teria uma metragem de 150.000 cm². Essa área poderia ser expressa **corretamente** de que outra maneira?

- a) 15 m²
- b) 150 m²
- c) 1.500 m²
- d) 1,5 m²
- e) 0,15 m²

Questão 26 – Um automóvel trafega a uma velocidade média de 90 km/h. Essa velocidade, em metros por segundo, equivale a:

- a) 20 m/s
- b) 36 m/s
- c) 30 m/s
- d) 180 m/s
- e) 25 m/s

Questão 27 – Observe a seguinte afirmação:

A distância, em linha reta, entre Porto Alegre e Passo Fundo (no Rio Grande do Sul) é 227.39 km, mas a distância de condução é 289 km.

(Fonte: distanciadades.net)

Podemos afirmar que essas distâncias são equivalentes a:

- a) 22,739 hm em linha reta e 28,9 dam em condução.
- b) 22.739.000 cm em linha reta e 289.000 m em condução.
- c) 227.390 m em linha reta e 28.900 m em condução.
- d) 227,39 m em linha reta e 2,89 mm em condução.
- e) 22.739 m em linha reta e 289.000 dm em condução.

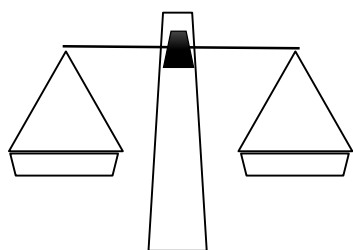
Questão 28 – Uma floricultura vende rosas vermelhas e brancas. Sabe-se que, a cada 9 rosas vendidas, 4 são brancas. Hoje, foram vendidas 12 rosas brancas, então, respeitando a proporção, quantas rosas vermelhas foram vendidas?

- a) 15
- b) 5
- c) 12
- d) 9
- e) 18

Questão 29 – Patrícia tinha uma determinada quantia em dinheiro e resolveu fazer um planejamento para gastá-lo. Decidiu separar em partes: metade do dinheiro seria gasto com alimentação. Do que sobrou, ela separou 20% para o transporte. Depois, separou o restante de maneira que $\frac{2}{3}$ ficaram guardados em casa para imprevistos e R\$ 100,00 ela guardou na carteira. Quanto dinheiro Patrícia tinha no início?

- a) Não é possível calcular.
- b) R\$ 1.500,00
- c) R\$ 1.000,00
- d) R\$ 750,00
- e) R\$ 500,00

Questão 30 – Equilibrando copos e xícaras: em uma experiência, temos copos (todos com a mesma massa), xícaras (todas com a mesma massa) e uma balança de dois pratos, como a do desenho a seguir:



Ao colocar alguns dos objetos na balança, ela fica equilibrada quando há 10 copos com 6 xícaras de um lado e 6 copos com 8 xícaras do outro lado. Assim, qual a massa de um copo?

- a) A mesma que a de duas xícaras.
- b) A mesma que a de três xícaras.
- c) A mesma que a de quatro xícaras.
- d) A mesma que a de uma xícara.
- e) A mesma que a de meia xícara.

Questão 31 – Um comerciante aumentou o preço de etiqueta de uma mercadoria em 25%. Após esse aumento, lançou uma promoção em que, nas compras à vista, o produto teria 20% de desconto sobre o preço da etiqueta. A peça foi vendida nessas condições. O comerciante:

- a) Não teve lucro nem prejuízo.
- b) Teve lucro de R\$ 5,00.
- c) Teve prejuízo de R\$ 5,00.
- d) Teve lucro de 5%.
- e) Teve prejuízo de 5%.

Questão 32 – Para criar uma senha numérica de quatro dígitos distintos, devemos escolher entre os algarismos 1, 2, 4, 5, 6 e 9. Quantas senhas pares conseguimos formar?

- a) 90
- b) 60
- c) 120
- d) 180
- e) 150

Questão 33 – Quantos anagramas podem ser escritos com as letras da palavra CONCURSO, em que a última letra seja R?

- a) 1.280
- b) 1.240
- c) 1.260
- d) 1.220
- e) 1.200

Questão 34 – Em um torneio de xadrez, a fase eliminatória consiste em jogos de 1 contra 1, em que todos jogam contra todos. Metade desses jogadores, portanto, são eliminados nessa fase. Sabendo que ocorreram exatamente 45 jogos nessa fase, quantos jogadores se inscreveram para o torneio?

- a) 10
- b) 9
- c) 8
- d) 7
- e) 6

Questão 35 – Um posto de saúde do município registrou, em um determinado dia, as consultas odontológicas em todos os pacientes agendados. Desses pacientes, 32 tinham cárie, 24 tinham gengivite, 16 tinham cárie e gengivite e 10 pacientes estavam em perfeita saúde bucal. Quantos pacientes foram atendidos?

- a) 37
- b) 50
- c) 76
- d) 44
- e) 82

Questão 36 – Do meu 13° salário, usei metade do valor no supermercado, 1/5 do valor na farmácia e 7/40 do valor em passeios. Que porcentagem desse dinheiro sobrou?

- a) 20%
- b) 8%
- c) 33%
- d) 40%
- e) 12,5%

Questão 37 – Dados os seguintes conjuntos numéricos:

$$A = \{1, 2, 3, 5, 6, 7, 8, 10, 12\}$$

$$B = \{0, 2, 3, 4, 5, 6, 7, 8, 12, 14\}$$

$$C = \{-1, 0, 2, 3, 4, 5, 7, 8, 11, 12, 13\}$$

A intersecção entre os conjuntos A, B e C possui exatamente:

- a) 2 elementos
- b) 6 elementos
- c) 4 elementos
- d) 5 elementos
- e) 3 elementos

Questão 38 – Dentre as alternativas a seguir, qual representa **corretamente** a lei de formação do conjunto A?

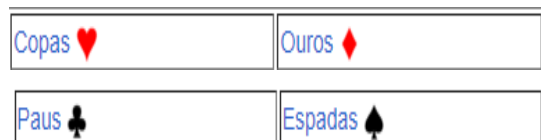
$$A = \{2, 3, 5, 7\}$$

- a) $A = \{x | x \text{ é um número ímpar e } 1 < x < 9\}$
- b) $A = \{x | x \text{ é um número ímpar e } 1 < x < 7\}$
- c) $A = \{x | x \text{ é um número natural par e } 1 < x < 7\}$
- d) $A = \{x | x \text{ é um número irracional e } 1 < x < 9\}$
- e) $A = \{x | x \text{ é um número primo e } 1 < x < 11\}$

Questão 39 – Em um guarda-roupas infantil, há exatamente 5 camisetas de cores diferentes, 4 bermudas de tecidos diferentes e 2 pares de tênis de modelos diferentes. Quantos trajes distintos, compostos por camiseta, bermuda e tênis, essa criança tem a possibilidade de usar?

- a) Não há informações suficientes para calcular.
- b) 1
- c) 18
- d) 40
- e) 400

Questão 40 – Um jogo de cartas tradicional tem 52 cartas, divididas igualmente entre 4 tipos com 13 cartas cada. Entre esses 4 tipos, há 2 de cor vermelha (copas e ouros) e 2 de cor preta (espadas e paus). Em cada tipo, as cartas estão numeradas de 2 a 10, e ainda há as figuras *Ás*, *Valete*, *Dama* e *Rei*.



Fonte: Google Imagens, 2023.

Retirando, de um baralho completo, uma carta ao acaso, qual a probabilidade de obter uma carta vermelha ou o número 7, independentemente da cor?

- a) 30/52
- b) 26/52
- c) 28/52
- d) 24/52
- e) 22/52

Conhecimentos gerais

Questão 41 - No mundo globalizado, os sistemas de transporte exercem destaque na dinâmica necessária para o deslocamento de pessoas e mercadorias ao redor do globo. Sobre o assunto, assinale a alternativa **correta**:

- a) Os custos de implantação e manutenção das rodovias são altos e crescem se a topografia for irregular. Esse sistema é um dos principais meios de transporte utilizados no Brasil.
- b) Considerado menos eficiente em relação aos demais sistemas, o transporte ferroviário é utilizado em larga escala. O preço desse transporte encarece o produto final para o consumidor.
- c) O transporte marítimo é um meio de transporte caro e limitado, principalmente por conta do custo de manutenção e do preço do combustível. Assim, nessa modalidade de transporte, há o predomínio de cargas leves e perecíveis.
- d) O sistema aéreo é amplamente utilizado nos países desenvolvidos e apresenta-se como um facilitador do desenvolvimento de indústrias de base, podendo utilizar diferentes fontes energéticas.
- e) Considerado o meio de transporte mais antigo, as ferrovias cresceram sensivelmente no período pós-guerra, em função das inovações tecnológicas que aumentaram a capacidade de carga e os seus segmentos especializados.

Questão 42 - O _____ é um combustível renovável obtido a partir de um processo químico denominado transesterificação. Por meio desse processo, os triglicerídeos presentes nos óleos e na gordura animal reagem com um álcool primário, metanol ou etanol, gerando dois produtos: o éster e a glicerina. O primeiro somente pode ser comercializado após passar por processos de purificação para adequação à especificação da qualidade, sendo destinado principalmente à aplicação em motores de ignição por compressão (ciclo Diesel).

Disponível em: <https://www.gov.br/anp/pt-br>. Acesso em: 21 ago. 2023.

A alternativa que preenche **corretamente** a lacuna é:

- a) petróleo
- b) urânio
- c) carvão mineral
- d) biogás
- e) biodiesel

Questão 43 - O Serviço de Atendimento Móvel de Urgência (SAMU 192) tem como objetivo chegar precocemente à vítima após ter ocorrido alguma situação de urgência ou emergência que possa levar a sofrimento, a sequelas ou até mesmo à morte. São urgências situações de natureza clínica, cirúrgica, traumática, obstétrica, pediátrica, psiquiátrica, entre outras.

Disponível em: <https://www.gov.br/saude/pt-br/assuntos/saude-de-a-a-z/s/samu-192>. Acesso em: 21 jun. 2023.

O atendimento do SAMU 192 começa a partir do chamado telefônico, quando são prestadas orientações sobre as primeiras ações. Nesse sentido, a orientação, respectivamente, de quando chamar e quando não chamar o SAMU 192 é:

- a) Ocorrência de problemas cardiorrespiratórios. Queimaduras graves.
- b) Afogamentos. Choque elétrico.
- c) Vômito e diarreia. Suspeita de infarto ou AVC.
- d) Agressão por arma de fogo ou arma branca. Febre prolongada.
- e) Trocas de sonda. Cólicas renais.

Questão 44 - A Base Nacional Comum Curricular (BNCC) é um documento de caráter normativo que define o conjunto orgânico e progressivo de aprendizagens essenciais que todos os alunos devem desenvolver ao longo das etapas e modalidades da Educação Básica.

Disponível em: <http://basenacionalcomum.mec.gov.br/>.
Acesso em: 15 jul. 2023.

Sobre a BNCC, analise as seguintes afirmações:

- I. Enquanto os documentos da BNCC referentes às etapas da educação infantil e do ensino fundamental foram homologados em 2017, o documento da etapa do ensino médio foi reformulado ao longo do ano seguinte.
- II. A elaboração de uma base nacional comum está prevista no artigo 210 da Constituição de 1988 e no artigo 26 da Lei de Diretrizes e Bases da Educação Nacional, de 1996. Portanto, a elaboração da BNCC, determinada já na carta constitucional, encontra-se amplamente amparada pela legislação educacional do país.
- III. A BNCC é a solução para tudo, pois, a partir dela, é possível identificar e colocar em prática diversas soluções para uma melhoria sistêmica da educação superior, visto que, ano a ano ou a cada bloco de anos, ela exige um patamar de qualidade na educação.
- IV. A BNCC deve ser implementada em até 3 anos após a homologação. A partir de 2023, o MEC iniciará um processo de diálogo com os sistemas e as redes de ensino sobre as principais etapas da implementação e a preparação necessária para cada uma delas.

Está **correto** apenas o que se afirma em:

- a) II e III.
- b) III e IV.
- c) I e II.
- d) I e IV.
- e) I e III.

Questão 45 - O Brasil é formado por seis biomas de características distintas: Amazônia, Caatinga, Cerrado, Pantanal, Mata Atlântica e Pampa. Cada um desses ambientes abriga diferentes tipos de vegetação e de fauna. Sobre essa questão, analise as afirmações que seguem e marque **V** para as **verdadeiras** e **F** para as **falsas**:

- () O bioma Amazônico abrange mais de 11 países, dos quais 90% estão no norte e no nordeste do Brasil, cobrindo mais de 9 milhões de km².
- () O Cerrado é o quarto maior bioma da América do Sul. Está presente em todas as regiões brasileiras e sua área contínua incide sobre os estados de Goiás, Tocantins, Mato Grosso, Paraná, Rio Grande do Sul, entre outros.
- () Exclusivamente brasileiro, o bioma Caatinga é o principal ecossistema da Região Nordeste, tratando-se do bioma semiárido mais biodiverso do mundo.
- () O Pampa está restrito ao estado do Rio Grande do Sul. O bioma exibe um imenso patrimônio cultural associado à biodiversidade. As paisagens naturais se caracterizam pelo predomínio dos campos nativos.
- () A Mata Atlântica tem a segunda maior biodiversidade das Américas, sendo que o Pantanal ocupa o 1º lugar. Enquanto a Mata Atlântica está presente apenas nos estados da Região Sul, o Pantanal se estende por Mato Grosso, Mato Grosso do Sul e São Paulo.

A sequência **correta** de preenchimento dos parênteses, de cima para baixo, é:

- a) F – F – V – V – F.
- b) F – V – F – V – V.
- c) V – V – F – V – V.
- d) V – F – F – V – V.
- e) F – V – F – F – V.

Questão 46 - Como base nos seus conhecimentos sobre o município de Passo Fundo, RS, assinale a alternativa correta:

	População no Censo 2022	Densidade demográfica no Censo 2022	Gentílico
a)	224.151	544,11 hab./km ²	passofundense
b)	206.224	262,90 hab./km ²	passo-fundense
c)	204.722	141,70 hab./km ²	paso-fundense
d)	184.826	101,88 hab./km ²	passo-fundense
e)	183.300	309,49 hab./km ²	passofundense

Questão 47 - Conforme se observa no mapa a seguir, o município de Passo Fundo, RS, encontra-se em um divisor de águas, ou seja, está localizado em duas bacias hidrográficas nomeadas:



- a) Bacia Hidrográfica do Guaíba e Bacia Hidrográfica do Paraná.
- b) Bacia Hidrográfica do Paraguai e Bacia Hidrográfica do Centro-Sul.
- c) Bacia Hidrográfica do Jacuí e Bacia Hidrográfica do Litoral-Sul.
- d) Bacia Hidrográfica da Argentina e Bacia Hidrográfica de Porto Alegre.
- e) Bacia Hidrográfica do Uruguai e Bacia Hidrográfica do Guaíba.

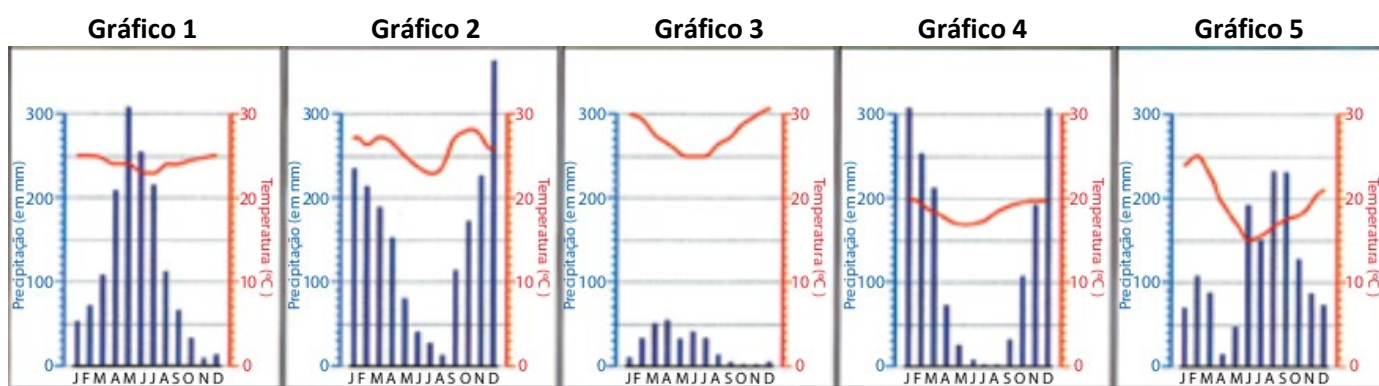
Questão 48 - O artigo 10 da Lei Orgânica do Município de Passo Fundo, RS, prevê as atribuições do município. A única alternativa que **não** está de acordo com a legislação municipal é:

- a) Organizar-se juridicamente, decretar leis, atos e medidas de interesse local.
- b) Instituir multas por infrações de suas leis, decretos e regulamentos, através de sistema integrado e único de fiscalização.
- c) Fiscalizar a legislação estadual e federal, no que couber, e elaborar o orçamento quinzenal de investimentos regionais.
- d) Organizar e prestar, diretamente ou sob regime de concessão ou permissão, os serviços públicos de interesse local.
- e) Regular a disposição, o traçado e as demais condições dos bens públicos de uso comum.

Questão 49 - A Lei Orgânica do Município de Passo Fundo, RS, tem como objetivo estabelecer as normas básicas para facilitar o funcionamento da administração e dos poderes municipais. Essa lei foi aprovada em:

- a) 17 de dezembro de 1996.
- b) 03 de abril de 1990.
- c) 20 de dezembro de 2017.
- d) 13 de maio de 1888.
- e) 05 de outubro de 1988.

Questão 50 - Os climogramas retratam as variações climáticas de uma determinada região ao longo do ano. Esse tipo de gráfico é fundamental para a compreensão da dinâmica climática de um município ou país.



(Maria Elena Simielli. *Geoatlas*, 2011. Adaptado.)

Sobre as características climáticas do município de Passo Fundo, RS, assinale a única alternativa que se refere ao clima subtropical:

- a) Gráfico 5
- b) Gráfico 4
- c) Gráfico 3
- d) Gráfico 2
- e) Gráfico 1

Questão 51 - Sobre os Objetivos de Desenvolvimento Sustentável da ONU e seus conhecimentos do assunto, assinale a única alternativa **correta**:

 **OBJETIVOS DE DESENVOLVIMENTO SUSTENTÁVEL**



Disponível em: <https://gtagenda2030.org.br/ods/>. Acesso em: 02 jun. 2023.

- a) Até 2030, o objetivo mundial é progressivamente alcançar e sustentar o crescimento da renda dos 60% da população mais rica a uma taxa maior que a média nacional.
- b) Até 2030, o objetivo mundial é aumentar a taxa de mortalidade materna global para menos de 2 mortes por 100.000 nascidos vivos.
- c) Até 2030, o objetivo mundial é promover o crescimento econômico sustentado, inclusivo e sustentável, o emprego pleno e produtivo e o trabalho decente para parte da população religiosa.
- d) Até 2030, o objetivo mundial é assegurar o acesso parcial, confiável e moderno a serviços de energia, além de triplicar a taxa global de melhoria da eficiência energética não renovável.
- e) Até 2030, o objetivo mundial é erradicar a pobreza extrema para todas as pessoas em todos os lugares, atualmente medida como pessoas vivendo com menos de US\$ 1,90 por dia.

Questão 52 - Sobre as características geográficas do município de Passo Fundo, RS, assinale a única alternativa **correta**:

- a) Possui temperaturas médias elevadas durante o ano, ficando entre 24°C e 25°C. A amplitude térmica anual é baixa, o que significa que há uma pequena diferença de temperatura entre o período mais quente e o período mais frio.
- b) Localiza-se em um bioma com grande biodiversidade. Apresenta uma vegetação com predominância de árvores de tronco grosso e tortuoso, além de gramíneas e arbustos, os quais possuem raízes muito profundas, para alcançar água nas regiões mais fundas do solo.
- c) Apresenta um solo com uma fina camada de nutrientes, que se forma a partir da decomposição de folhas, frutos e animais mortos. Essa camada é rica em húmus, matéria orgânica muito importante para algumas espécies de plantas da região.
- d) Localiza-se no domínio morfoclimático marcado por chuvas bem distribuídas durante o ano, alta amplitude térmica e redução significativa da temperatura no outono e no inverno, devido à atuação da massa de ar polar.
- e) Está inserido numa bacia hidrográfica que corresponde a 8% do território nacional. O rio principal nasce na Serra da Canastra e deságua no Oceano Atlântico. Possui excelente potencial hidrelétrico e hidroviário.

Questão 53 - A Companhia de Desenvolvimento de Passo Fundo (Codepas) foi criada pela Lei n. 2.115, de 1º de dezembro de 1984. É uma empresa pública sob forma de sociedade anônima, em que a Prefeitura Municipal é acionista majoritária, com 98,8% do capital social, e a Capasemu é acionista minoritária, com 1,2% do capital.

Disponível em: <https://www.codepas.com.br/site/a-codepas/>.
Acesso em: 15 ago. 2023.

Sobre a Codepas, analise as seguintes afirmações:

- I. No final de 1993, a Codepas desvinculou-se da Secretaria Municipal de Serviços Urbanos (SMSU) e assumiu a forma de empresa pública de economia mista, com sede própria.
- II. A Codepas trabalha para melhorar a vida das pessoas, incentivando o desenvolvimento econômico e social da comunidade.
- III. A Codepas conta hoje com, aproximadamente, 400 funcionários, todos concursados pelo regime da CLT, uma diretoria formada por 5 diretores e 2 Comissões Internas de Prevenção de Acidentes (Cipa).

Está **correto** o que se afirma em:

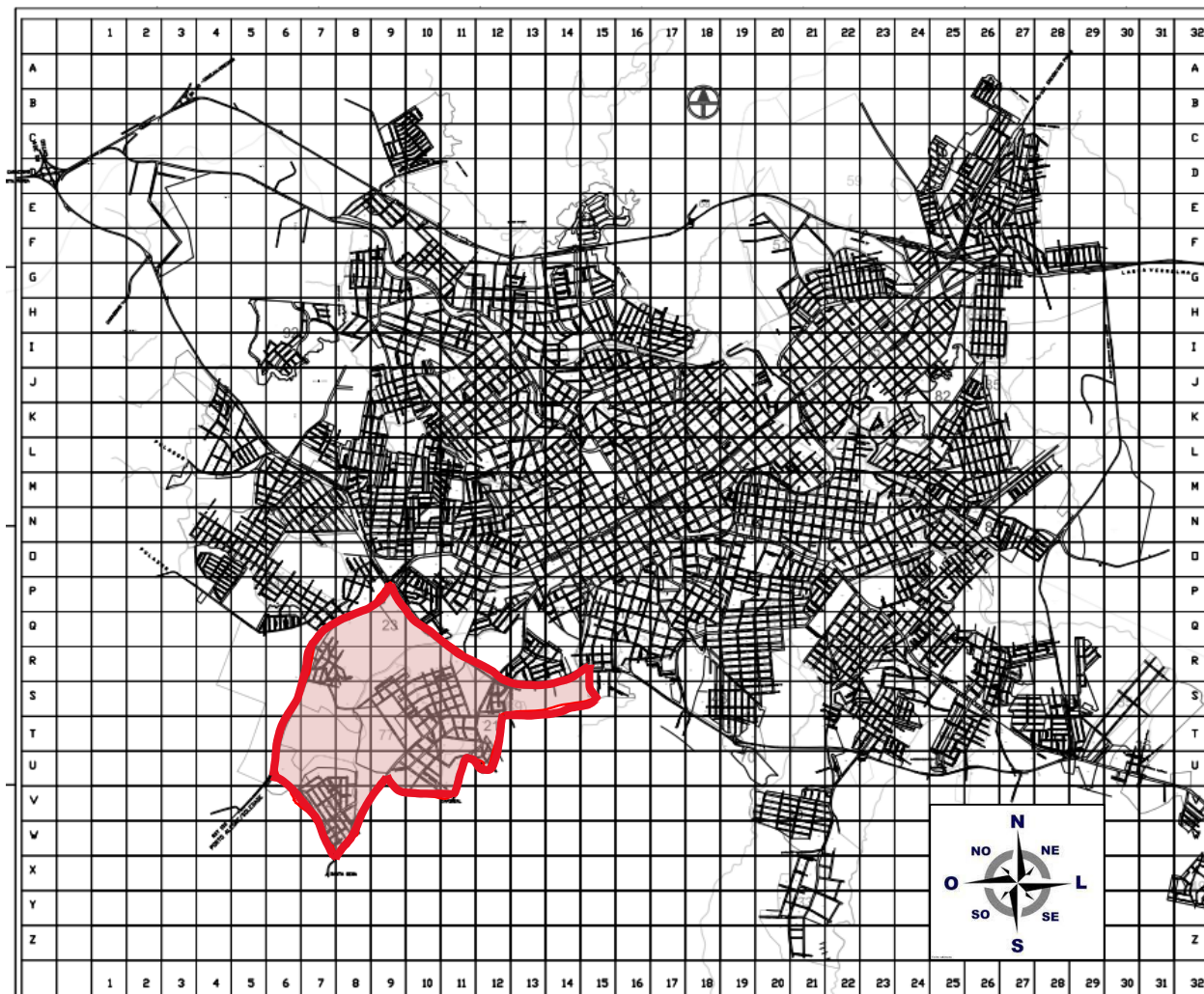
- a) II e III, apenas.
- b) I e II, apenas.
- c) II, apenas.
- d) I, II e III.
- e) I e III, apenas.

Questão 54 - O município de Passo Fundo, RS, possui, atualmente, seis distritos, os quais são denominados:

- a) Distrito de Pulador; Distrito de Bom Recreio; Distrito de Burro Preto; Distrito do Capingui; Distrito de Santa Gema; Distrito de São Braz.
- b) Distrito de São Roque; Distrito de Pulador; Distrito de Bela Vista; Distrito de Sede Independência; Distrito de Bom Recreio; Distrito de Santo Antônio do Capinzal.
- c) Distrito do Capingui; Distrito de São Roque; Distrito de Bela Vista; Distrito de Santo Antônio do Capinzal; Distrito de Santa Gema; Distrito de Santo Antônio.
- d) Distrito do Capinzal; Distrito de Burro Preto; Distrito de Bela Vista; Distrito de Sede Independência; Distrito de São Braz; Distrito de Santa Gema.
- e) Distrito de Santo Antônio do Capinzal; Distrito de Burro Preto; Distrito de São Roque; Distrito de Pulador; Distrito de São Braz; Distrito de Santo Antônio.

Questão 55 - O mapa urbano do município de Passo Fundo - RS auxilia a Secretaria de Planejamento na condução das atividades relacionadas ao dia a dia da população.

A área demarcada no mapa a seguir corresponde à:



Fonte: adaptado. Disponível em: <https://www.pmpf.rs.gov.br/secretaria-de-planejamento/servicos/mapa-bairros/>. Acesso em: 15 ago. 2023.

- a) Região do Bairro Santa Marta
- b) Região do Bairro Integração
- c) Região do Bairro Vila Luiza
- d) Região do Bairro São Luiz Gonzaga
- e) Região do Bairro Roselândia

Questão 56 - Como base nos seus conhecimentos sobre a geologia, a geomorfologia e a pedologia do município de Passo Fundo, RS, assinale a alternativa **correta**:

	Rocha predominante	Relevo	Solo predominante
a)	Calcário	Planície	Cárstico
b)	Mármore	Depressão absoluta	Lixiviado
c)	Basalto	Planície	Tchernozion
d)	Basalto	Planalto	Latossolo
e)	Calcário	Planalto	Podzol

Questão 57 - Além da riqueza hídrica superficial, o Brasil apresenta uma abundância de água subterrânea. Qual das alternativas a seguir descreve **corretamente** uma característica dos aquíferos no Brasil?

- a) Os aquíferos do Brasil são mais abundantes na Região Norte, devido ao clima chuvoso, enquanto o restante do país apresenta pouca ocorrência dessas reservas de água.
- b) Os aquíferos no Brasil são utilizados apenas para fins agrícolas, devido à sua baixa qualidade e à dificuldade de tratamento para consumo humano.
- c) A maior parte dos aquíferos brasileiros encontra-se em altitudes elevadas, o que dificulta a recarga e a exploração sustentável dessas reservas.
- d) Os aquíferos são fontes de água subterrânea que não possuem relação com os lençóis freáticos, tornando-se inacessíveis para a utilização humana e industrial.
- e) Os aquíferos do Brasil são compostos principalmente por rochas permeáveis, o que facilita o armazenamento e a movimentação das águas subterrâneas.

Questão 58 - As Zonas Econômicas Exclusivas (ZEEs) são áreas especificamente destinadas ao direcionamento da atividade industrial na China. Assinale a alternativa que descreve **corretamente** uma característica dessas zonas no contexto das disputas envolvendo as ZEEs da China:

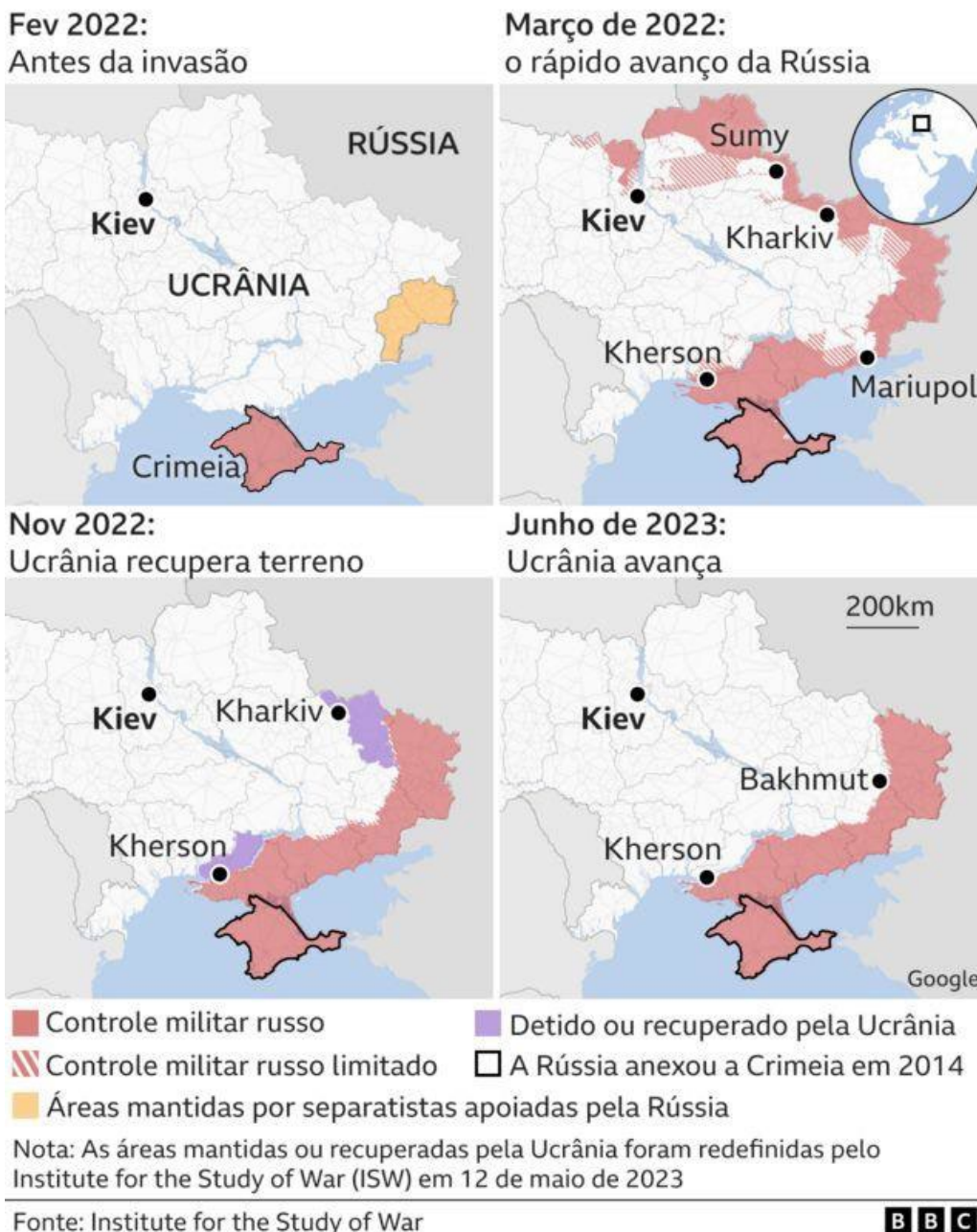
- a) As ZEEs da China são estabelecidas internacionalmente e não estão sujeitas a disputas territoriais ou reivindicações de outros países.
- b) As ZEEs da China são áreas marítimas em que apenas atividades de pesca são permitidas, excluindo qualquer exploração de recursos naturais.
- c) As ZEEs da China são delimitadas apenas por critérios geográficos, sem levar em consideração os interesses econômicos e políticos da região.
- d) As ZEEs da China têm sido objeto de disputas entre vários países vizinhos, devido a reivindicações concorrentes sobre territórios e recursos marinhos.
- e) As ZEEs da China são zonas de livre trânsito marítimo estabelecidas para promover a cooperação comercial e econômica na região Ásia-Pacífico.

Questão 59 - Os blocos econômicos possuem grande impacto na economia e no comércio internacional, pois influenciam diretamente o fluxo de mercadorias que entra e sai de um país. Sobre esse assunto, assinale a alternativa que cita **corretamente** exemplos de blocos econômicos e as suas características:

a)	Mercosul, USMCA e União Europeia	Os blocos econômicos promovem a cooperação econômica entre países-membros por meio da redução de barreiras comerciais, como tarifas.
b)	BRICS, União Europeia e ACNUR	Os blocos econômicos têm como objetivo principal a unificação das políticas militares e de defesa dos países-membros, para fortalecer sua segurança coletiva.
c)	União Europeia, OMC e OMS	Os blocos econômicos são organizações exclusivamente políticas, sem influência nas atividades comerciais ou econômicas entre os países-membros.
d)	USMCA, Otan e Unicef	Os blocos econômicos visam principalmente a criação de uma moeda única para os países participantes, eliminando a necessidade de câmbio nas transações.
e)	FMI, BRICS e Mercosul	Os blocos econômicos excluem a possibilidade de acordos comerciais com países fora do bloco, limitando as opções de comércio exterior.

Questão 60 - A guerra na Ucrânia teve início em 2014, após a anexação da Crimeia pela Rússia, seguida por conflitos entre forças ucranianas e separatistas pró-russos no leste do país. O conflito resultou em tensões geopolíticas e uma crise humanitária duradoura. Com base no seu conhecimento sobre o assunto e no mapa a seguir, assinale a alternativa **correta**:

Como o controle militar da Ucrânia mudou



- a) O conflito na Ucrânia teve início como uma luta étnica entre grupos ucranianos e russos, sem envolvimento de atores internacionais.
- b) O conflito na Ucrânia foi desencadeado pela expansão da União Europeia e da Otan na região, levando a tensões com a Rússia.
- c) A Ucrânia declarou independência unilateralmente da Rússia, resultando em uma intervenção militar russa para retomar o controle da Crimeia.
- d) A Ucrânia e a Rússia chegaram a um acordo pacífico para resolver suas divergências, encerrando qualquer hostilidade entre os dois países.
- e) O conflito na Ucrânia é exclusivamente uma questão interna, sem repercussões políticas ou econômicas para outros países da região.